

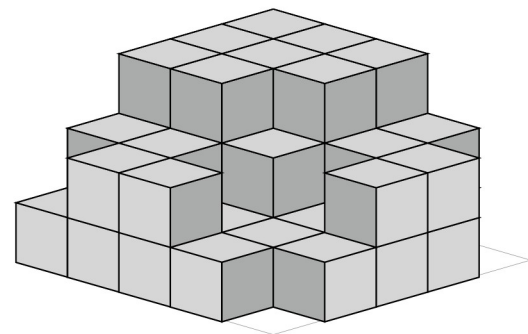
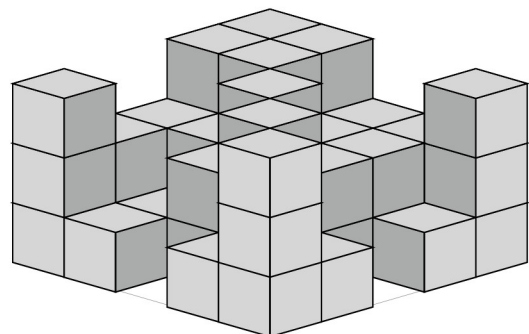
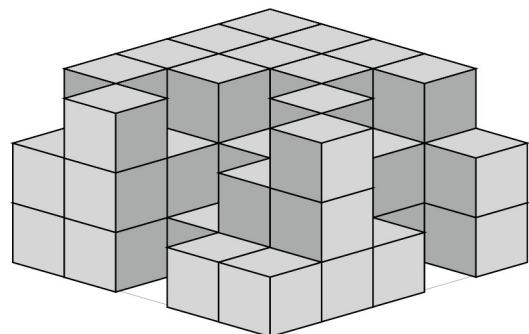
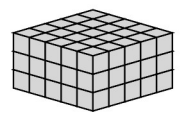
Zahlbereich										Rechenoperationen					Grundlagen				Geometrie	Bauplan	Würfelgebäude					
bis 9	bis 10	bis 20	bis 30	bis 40	bis 50	bis 70	bis 100	bis 1.000	bis 10.000	größer 10.000	ohne 0	ohne Übertrag	mit MerkHzahl	Addition	Subtraktion	Multiplikation	Division	Brüche	Prozente	Zahlen	Mengen	Ganzes / Teile	Dezimalsystem	Geometrie	Bauplan	Würfelgebäude

Name | Datum

80_05_7 [254] Geometrie Würfelgebäude

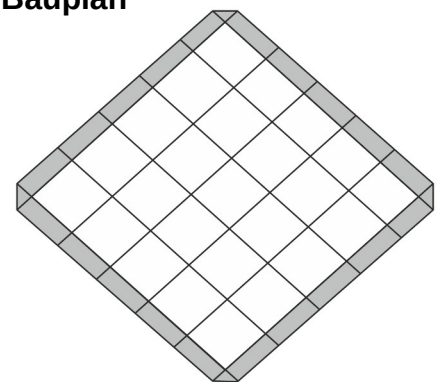
Eine Würfelgebäude soll aus 75 Würfel zusammengesetzt werden.

Bauplan 5 x 5 x 3

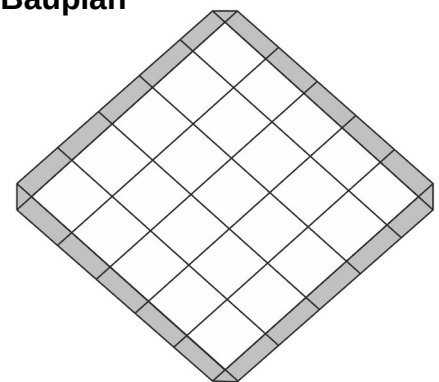


Erstelle einen Plan nach den vorgegebenen Würfeln:

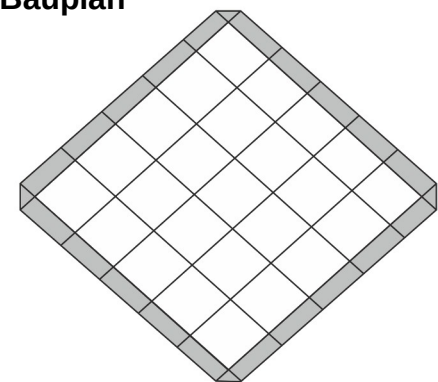
Bauplan



Bauplan



Bauplan



Wie viele Würfel:

Es sind _____ Würfel.

Es fehlen _____ Würfel.

Es sind _____ Würfel.

Es fehlen _____ Würfel.

Es sind _____ Würfel.

Es fehlen _____ Würfel.



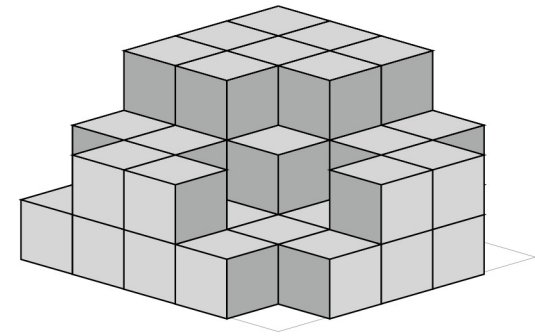
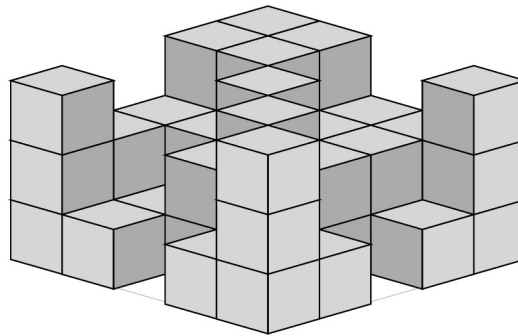
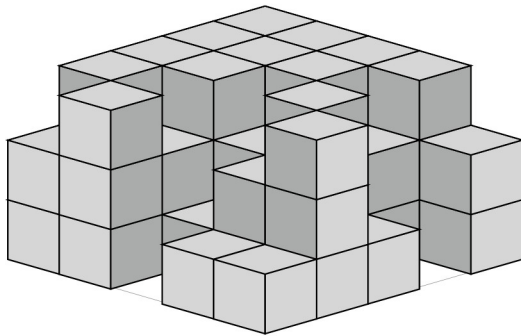

Zahlbereich										Rechenoperationen					Grundlagen				Geometrie	Bauplan	Würfelgebäude					
bis 9	bis 10	bis 20	bis 30	bis 40	bis 50	bis 70	bis 100	bis 1.000	bis 10.000	größer 10.000	ohne 0	ohne Übertrag	mit MerkHzahl	Addition	Subtraktion	Multiplikation	Division	Brüche	Prozente	Zahlen	Mengen	Ganzes / Teile	Dezimalsystem	Geometrie	Bauplan	Würfelgebäude

Lösung

80_05_7 [254] Geometrie Würfelgebäude

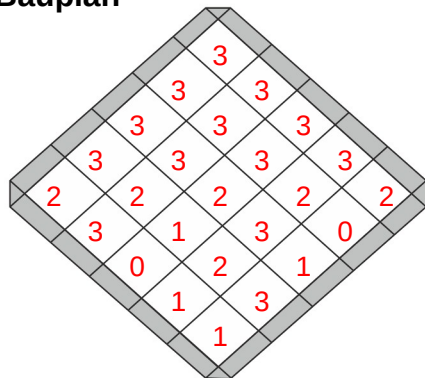
Eine Würfelgebäude soll aus 75 Würfel zusammengesetzt werden.

Bauplan 5 x 5 x 3

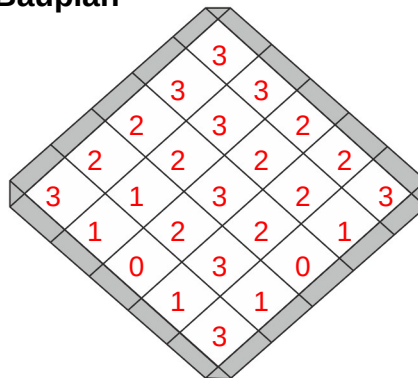


Erstelle einen Plan nach den vorgegebenen Würfeln:

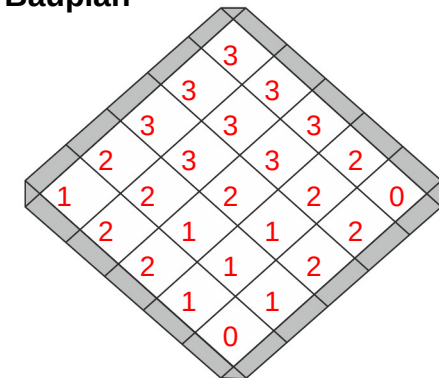
Bauplan



Bauplan



Bauplan



Wie viele Würfel:

Es sind 55 Würfel.

Es fehlen 20 Würfel.

Es sind 50 Würfel.

Es fehlen 25 Würfel.

Es sind 48 Würfel.

Es fehlen 27 Würfel.

