

Zahlbereich										Rechenoperationen					Grundlagen							
9	10	20	30	40	50	70	100	1.000	10.000	Addition	Subtraktion	Multiplikation	Division	Brüche	Prozente	Zahlen	Mengen	Ganzes / Teile	Dezimalsystem	Uhrzeit	Volle Stunden	ablesen & eintragen
bis	bis	bis	bis	bis	bis	bis	bis	bis	größer 10.000													
						ohne 0	ohne Übertrag	mit MerkHzahl														

Name | Datum


Der kleine Zeiger heißt Stundenzeiger und der große Zeiger heißt Minutenzeiger.

74\_11\_7 [296] Analog Uhr - Uhrzeit, römisch, 24 Stunden


**Notiere die beiden Uhrzeit unter der jeweiligen Uhr.**

24 Stunden – ganze Stunden – mit römischen Ziffern

Wie spät ist es?




\_\_\_\_ : \_\_\_\_ Uhr  
 \_\_\_\_ : \_\_\_\_ Uhr



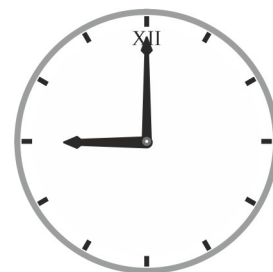
\_\_\_\_ : \_\_\_\_ Uhr  
 \_\_\_\_ : \_\_\_\_ Uhr




\_\_\_\_ : \_\_\_\_ Uhr  
 \_\_\_\_ : \_\_\_\_ Uhr



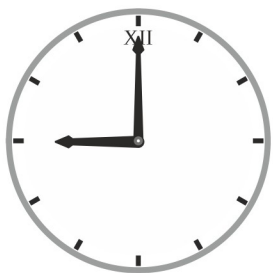
\_\_\_\_ : \_\_\_\_ Uhr  
 \_\_\_\_ : \_\_\_\_ Uhr




\_\_\_\_ : \_\_\_\_ Uhr  
 \_\_\_\_ : \_\_\_\_ Uhr




\_\_\_\_ : \_\_\_\_ Uhr  
 \_\_\_\_ : \_\_\_\_ Uhr




\_\_\_\_ : \_\_\_\_ Uhr  
 \_\_\_\_ : \_\_\_\_ Uhr




\_\_\_\_ : \_\_\_\_ Uhr  
 \_\_\_\_ : \_\_\_\_ Uhr




\_\_\_\_ : \_\_\_\_ Uhr  
 \_\_\_\_ : \_\_\_\_ Uhr



\_\_\_\_ : \_\_\_\_ Uhr  
 \_\_\_\_ : \_\_\_\_ Uhr



\_\_\_\_ : \_\_\_\_ Uhr  
 \_\_\_\_ : \_\_\_\_ Uhr



\_\_\_\_ : \_\_\_\_ Uhr  
 \_\_\_\_ : \_\_\_\_ Uhr

Der kleine Zeiger heißt Stundenzeiger.

Der große Zeiger heißt Minutenzeiger.



Zahlbereich										Rechenoperationen					Grundlagen							
9	10	20	30	40	50	70	100	1.000	10.000	Addition	Subtraktion	Multiplikation	Division	Brüche	Prozente	Zahlen	Mengen	Ganzes / Teile	Dezimalsystem	Uhrzeit	Volle Stunden	ablesen & eintragen
bis	bis	bis	bis	bis	bis	bis	bis	bis	größer 10.000													
						ohne 0	ohne Übertrag	mit Merzkzahl														


Der kleine Zeiger heißt Stundenzeiger und der große Zeiger heißt Minutenzeiger.

[74\\_11\\_7 \[296\] Analog Uhr - Uhrzeit, römisch, 24 Stunden](#)

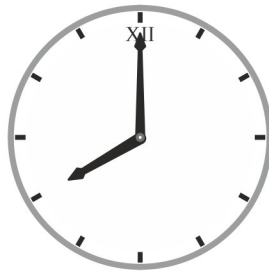
**Notiere die beiden Uhrzeit unter der jeweiligen Uhr.**

24 Stunden – ganze Stunden – mit römischen Ziffern


Wie spät ist es?




1 : 00 Uhr  
13 : 00 Uhr



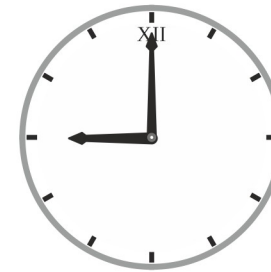
8 : 00 Uhr  
20 : 00 Uhr




2 : 00 Uhr  
14 : 00 Uhr




7 : 00 Uhr  
19 : 00 Uhr




9 : 00 Uhr  
21 : 00 Uhr




5 : 00 Uhr  
17 : 00 Uhr




9 : 00 Uhr  
21 : 00 Uhr



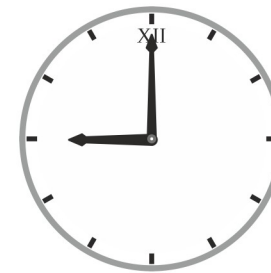
3 : 00 Uhr  
15 : 00 Uhr




6 : 00 Uhr  
18 : 00 Uhr



10 : 00 Uhr  
22 : 00 Uhr



9 : 00 Uhr  
21 : 00 Uhr



5 : 00 Uhr  
17 : 00 Uhr

Der kleine Zeiger heißt Stundenzeiger.

Der große Zeiger heißt Minutenzeiger.